

Câu 11. Tiến hành thí nghiệm theo các bước sau:

Bước 1: Cho vào cốc thủy tinh chịu nhiệt khoảng 5 gam dầu dừa và 10 mL dung dịch NaOH 40%.

Bước 2: Đun sôi nhẹ hỗn hợp, liên tục khuấy đều bằng đũa thủy tinh khoảng 30 phút và thỉnh thoảng thêm nước cất để giữ cho thể tích hỗn hợp không đổi. Để nguội hỗn hợp.

Bước 3: Rót vào hỗn hợp 15 - 20 mL dung dịch NaCl bão hòa, nóng, khuấy nhẹ rồi để yên.

(a) Ở bước 1, nếu thay dầu dừa bằng dầu nhớt thì hiện tượng thí nghiệm sau bước 3 vẫn xảy ra tương tự.

(b) Ở bước 2, việc thêm nước cất để đảm bảo phản ứng thủy phân xảy ra.

(c) Ở bước 2, có thể thay việc đun sôi nhẹ bằng đun cách thủy (ngâm trong nước nóng).

(d) Ở bước 3, thêm dung dịch NaCl bão hòa là để tách muối của acid béo ra khỏi hỗn hợp.

(e) Sau bước 3, thấy có lớp chất rắn màu trắng nổi lên là glycerol.

Số phát biểu đúng là

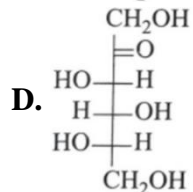
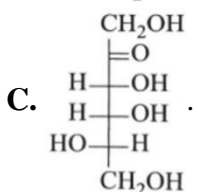
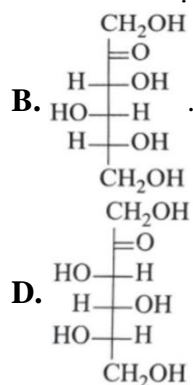
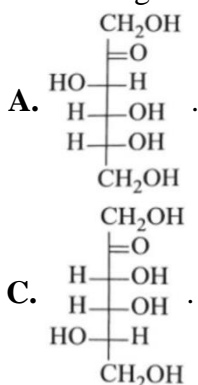
A. 2.

B. 3.

C. 4.

D. 5.

Câu 12. Công thức nào dưới đây mô tả đúng cấu tạo của fructose ở dạng mạch hở?



Câu 13. X là một loại carbohydrate ở thể rắn, không màu, tan trong nước, có vị ngọt. Trong phân tử X chứa 1 gốc α -glucose và 1 gốc β -fructose. X là

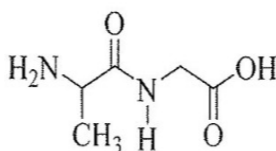
A. saccharose.

B. fructose.

C. glucose.

D. maltose.

Câu 14. Cho peptide X có công thức cấu tạo như hình sau:



Khi thủy phân hoàn toàn X trong môi trường acid HCl thu được các sản phẩm hữu cơ có công thức

A. $\text{ClH}_3\text{N}-\text{CH}(\text{CH}_3)-\text{COOH}$ và $\text{ClH}_3\text{N}-\text{CH}_2-\text{COOH}$.

B. $\text{ClH}_3\text{N}-\text{CH}(\text{CH}_3)-\text{COOH}$ và $\text{H}_2\text{N}-\text{CH}_2-\text{COOH}$.

C. $\text{H}_2\text{N}-\text{CH}(\text{CH}_3)-\text{COOH}$ và $\text{H}_2\text{N}-\text{CH}_2-\text{COOH}$.

D. $\text{H}_2\text{N}-\text{CH}(\text{CH}_3)-\text{COOH}$ và $\text{ClH}_3\text{N}-\text{CH}_2-\text{COOH}$.

Câu 15. Cho dãy các dung dịch sau: glucose, saccharose, cellulose, glycerol và fructose. Số dung dịch trong dãy phản ứng được với $\text{Cu}(\text{OH})_2$ ở nhiệt độ thường tạo thành dung dịch có màu xanh lam là

A. 5.

B. 3.

C. 2.

D. 4.

Câu 16. Chất nào sau đây là amine bậc ba?

A. CH_3NH_2 .

B. $(\text{CH}_3)_2\text{NH}$.

C. $(\text{CH}_3)_3\text{N}$.

D. $\text{C}_6\text{H}_5\text{NH}_2$.

Câu 17. Ester X có công thức cấu tạo thu gọn là $\text{CH}_3\text{COOCH}_3$. Tên gọi của X là

A. methyl formate.

B. ethyl acetate.

C. methyl acetate.

D. ethyl formate.

Câu 18. Trong các nhận xét dưới đây, nhận xét nào **không** đúng?

- A. Cellulose phản ứng với HNO_3 dư có xúc tác thích hợp tạo cellulose trinitrate.
- B. Glucose, fructose, saccharose đều hoà tan được copper (II) hydroxide.
- C. Thủy phân tinh bột trong môi trường acid sinh ra fructose.
- D. Trong môi trường kiềm, glucose và fructose đều có phản ứng tráng bạc.

PHẦN II. Câu trắc nghiệm đúng sai (4,0 điểm). Thí sinh trả lời từ câu 1 đến câu 4. Trong mỗi ý a, b, c, d ở mỗi câu, thí sinh chọn đúng hoặc sai

Câu 1. Đường ăn (saccharose) là chất làm ngọt phổ biến trong sản xuất thực phẩm, còn đường mạch nha (maltose) chủ yếu sử dụng để sản xuất bia.

a) Saccharose không có nhóm -OH hemiacetal tự do nên không thể chuyển thành dạng mạch hở chứa nhóm aldehyde (-CHO), do đó saccharose chỉ tồn tại ở dạng mạch vòng.

b) Khi đun nóng, saccharose tạo kết tủa đỏ gạch với copper (II) hydroxide trong môi trường kiềm.

c) Trong môi trường base hoặc có enzyme làm xúc tác, saccharose bị thủy phân thành glucose và fructose.

d) Maltose có nhóm -OH hemiacetal tự do, trong dung dịch gốc α -glucose của maltose có thể mở vòng tạo ra nhóm aldehyde (-CHO), do đó maltose tồn tại đồng thời ở dạng mạch hở và mạch vòng.

Câu 2. Hằng ngày, cơ thể chúng ta được cung cấp các chất dinh dưỡng như tinh bột, đường saccharose, glucose, fructose, ... Các sản phẩm làm từ giấy, gỗ, sợi cotton, ... với thành phần chính là cellulose cũng được con người sử dụng.

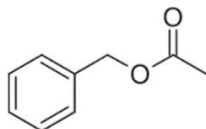
a) Các chất tinh bột, saccharose, glucose, fructose, cellulose có tên gọi là carbohydrate

b) Carbohydrate được chia làm 3 nhóm chủ yếu monosaccharide, disaccharide, polysaccharide.

c) Carbohydrate là những hợp chất hữu cơ đa chức, thường có công thức chung là $\text{C}_n(\text{H}_2\text{O})_m$

d) Disaccharide là nhóm carbohydrate khi bị thủy phân hoàn toàn mỗi phân tử tạo thành nhiều phân tử monosaccharide.

Câu 3. Chất X là một ester có mùi thơm của hoa nhài. X có công thức cấu tạo như sau:



a) Tên gọi của X là methyl benzoate.

b) Công thức phân tử của X là $\text{C}_8\text{H}_{10}\text{O}_2$.

c) Phần trăm khối lượng của nguyên tố carbon trong X là 72%.

d) Số liên kết π trong phân tử chất X là 4.

Câu 4. X là một α - amino acid no, chỉ chứa 1 nhóm $-\text{NH}_2$ và 1 nhóm $-\text{COOH}$. Cho X tác dụng với 100ml dd NaOH 1M, thu được 11,1 g muối.

a) Công thức của X là $\text{H}_2\text{N}-\text{CH}_2-\text{COOH}$.

b) X có tên là Alanine

c) X có khối lượng là 18,9 gam.

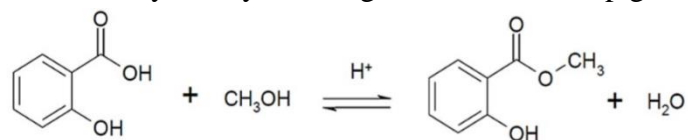
d) Công thức của X là $\text{CH}_3-\text{CH}(\text{NH}_2)-\text{COOH}$.

PHẦN III. Câu trắc nghiệm yêu cầu trả lời ngắn (1,5 điểm). Thí sinh trả lời từ câu 1 đến câu 3.

Câu 1. Histamine là một amine tự nhiên được tìm thấy trong cơ thể người và nhiều loại động vật. Histamine tồn tại một trong hai dạng, dạng dự trữ ở khắp các mô trong cơ thể hoặc dạng tự do. Một trong những tác động của histamine là gây viêm, dị ứng. Kết quả phân tích nguyên tố của histamine có 54,05%C, 8,11%H, còn lại là N. Công thức đơn giản nhất của histamine trùng với công thức phân tử. Phân tử khối của histamine là bao nhiêu?

Câu 2. Thủy phân 100 gam dung dịch saccharose 20% trong môi trường axit (vừa đủ) được dung dịch X. Sau đó, cho dung dịch X phản ứng hoàn toàn với thuốc thử Tollens. Biết rằng hiệu suất của toàn bộ quá trình là 85%. Hãy tính khối lượng silver (Ag) thu được? (làm tròn đến hàng phần mười)

Câu 3. Methyl salicylate dùng làm thuốc xoa bóp giảm đau, được điều chế theo phản ứng sau:



salicylic acid methanol methyl salicylate



Để sản xuất 1,9 triệu tuýp thuốc xoa bóp giảm đau cần tối thiểu m tấn salicylic acid. Biết mỗi tuýp thuốc chứa 2,7 gam methyl salicylate và hiệu suất phản ứng tính theo salicylic acid là 75%. Hãy tính giá trị của m? (*làm tròn đến hàng phần trăm*)

----HẾT---